

## PONEDELJEK, 6.4.2020

ŠPO

### VAJE ZA RAZVIJANJE RAVNOTEŽJA

UČENEC SKUŠA OBDRŽATI RAVNOTEŽJE V RAZLIČNIH POLOŽAJIH, SAM IŠČE RAZLIČNE MOŽNOSTI:

BALANSIRA NA ENEM DELU TELESA – NA ENI NOGI, ZADNJICI, TREBUHU, HRBTU ...;

NA DVEH – NA ENI ROKI IN ENI NOGI, NA KOLENU IN RAMI, NA ZADNJICI IN ROKI ...;

UGOTAVLJA, V KAKŠNEM POLOŽAJU JE BOLJ STABILEN: ČE IMA NOGE SKUPAJ ALI NARAZEN; ČE JE TEŽIŠČE TELESA VISOKO ALI NIZKO.

ZDAJ, KO SI NAŠEL RAVNOTEŽJE, PA SE BOŠ ZA TRENUTEK SPREMENIL V PIRATA. ZATO SE ZAVRTI IN ZAPLEŠI KOT PIRATI V NALEDNJEM POSNETKU:

[https://www.youtube.com/watch?v=oe\\_HDfdmnaM](https://www.youtube.com/watch?v=oe_HDfdmnaM)

**NE POZABI VMES NA PITJE VODE !**



SLJ

### PRAVLJICA: JURI MURI V AFRIKI



POSLUŠAJ ZGOBICO O JURIJU MURIJU. STARŠI NAJ TI POMAGAJO IN PREKO SPODNJE POVEZAVE POSLUŠAJ PAVLJICO PREKO RAČUNALNIKA

<https://www.youtube.com/watch?v=lFtgonp5FW4>

PO POSLUŠANJU:

A) POGOVORJAJ SE S STARŠI O POSLUŠANEM. BESEDE IZ PRAVLJICE, KI JIH NE RAZUMEŠ, PROSI STARŠE, DA TI JIH RAZLOŽIJO

B) PRAVLJICO LAHKO TI PRIPOVEDUJEŠ MAMICI, ATIJU, DEDKU, BABICI, SESTRICI.....

C) ILUSTRIRAJ PRAVLJICO V BREZČRTNI ZVEZEK ZA SLOVENŠČINO. NE POZABI ZAPISATI NASLOV PRAVLJICE.

MAT

RAČUNAM DO 10  
RAČUNAM DO 10

1. IZRAČUNAJ, REZULTATE POVEZI, KOT SI SLEDUJO PO STOLPCIH.

$$\begin{array}{l} 9 + 1 = \square \\ 10 - 1 = \square \\ 4 + 4 = \square \\ 8 - 1 = \square \\ 10 - 4 = \square \end{array} \quad \begin{array}{l} 2 + 3 = \square \\ 8 - 4 = \square \\ 3 + 0 = \square \\ 1 + 1 = \square \\ 1 - 0 = \square \end{array}$$



2. OGLEDI SI ŠTEVILSKI TRAK. NAPIŠI RAČUN.



$$\square + \square = \square$$



$$\square - \square = \square$$

3. ODŠTEJ

-	4	3	1	0	5	7
10			9			
8						



1. REŠI NALOGE V DELOVNEM ZVEZKU.
2. RAČUNE PREPIŠI V SVOJ ZVEZEK IN JIH IZRAČUNAJ.

$$7 + 2 =$$

$$6 + 3 =$$

$$2 + 6 =$$

$$1 + 4 =$$

$$6 + 3 =$$

$$9 - 2 =$$

$$6 - 3 =$$

$$8 - 6 =$$

$$10 - 4 =$$

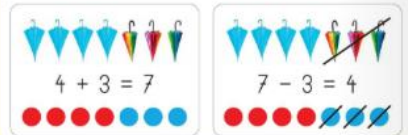
$$6 - 3 =$$

## TOREK, 7.4.2020

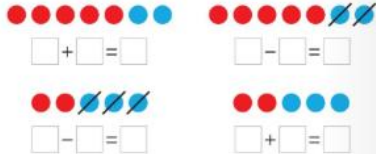
<p><b>SPO</b></p>	<p style="text-align: center;"><b>MOJE TELO</b></p> <p>1. DZ STRAN 74 – POIMENUJ OZNAČENE DELE OBRAZA</p> <p>2. PREBERI BESEDE, POBARVAJ DEL TELESA Z BARVO, S KATERO JE ZAPISAN DEL TELESA</p> <p>3. UČNI LIST <b>MOJE TELO</b> SPINTAJ IN SI GA ZALEPI V ZVEZEK ZA SPO(ČEBELICA). ČE NE MOREŠ PRINTATI PA ZAPIŠI SAMO NASLOV IN SE NARIŠI.</p> 
<p><b>GUM</b></p>	<p><b>PONOVI PESMICE</b></p> <ul style="list-style-type: none"> <li>- PONOVI BESEDILO ESMICE POTOČEK</li> <li>- ZAPOJ PESMICE, KI SI SE JIH NAUČIL</li> </ul>
<p><b>SLJ</b></p>	<p><b>ČRKA H</b></p>  <p>1. OGLEJ SI PRAVILEN ZAPIS ČRKE H</p> <p>2. VADI ZAPIS V SVOJ ZVEZEK</p> <p>3. PIŠI ČRKO H V DZ (POTRUDI SE)</p> <p>4. REŠI NALOGE V DELOVNEM ZVEZKU IN BERI.</p>
<p><b>MAT</b></p>	<p><b>SEŠTEVAM IN ODŠTEVAM DO 10</b></p>

## SEŠTEVAM IN ODŠTEVAM

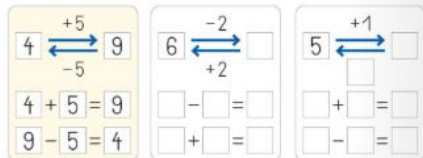
OPAŽUJ SLIKO, SEŠTAVI BESEDILNO NALOGO.



1. ZAPIŠI RAČUN.




2. REŠI, KOT KAŽE PRIMER.



70

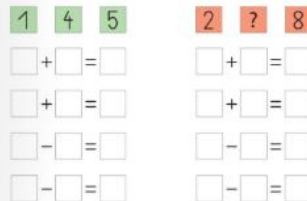
3. IZRACUNAJ, PRIPISI RAČUN SEŠTEVANJA OZIROMA ODŠTEVANJA.



4. IZRACUNAJ.



5. IZ ŠTEVIL SEŠTAVI ŠTIRI RAZLIČNE RAČUNE IN JIH IZRACUNAJ.



71

1. OGLEJ SI SLIČICE IN ZAPIŠI USTREZNE RAČUNE
2. RAČUNAJ V SMERI PUŠČIC
3. ZAPIS V ZVEZEK ZA MATEMATIKO

NAPIŠI Z RDEČO BARVICO NASLOV

## SEŠTEVAM IN ODŠTEVAM



$$\underline{5 + 3 = 8}$$



$$\underline{8 - 3 = 5}$$

IZ ŠTEVIL 8, 5, 3 LAHKO ZAPIŠEMO DVA RAČUNA SEŠTEVANJA IN DVA RAČUNA ODŠTEVANJA.

**SEŠTEVANJE**

$$5 + 3 = 8$$

$$3 + 5 = 8$$

**ODŠTEVANJE**

$$8 - 5 = 3$$

$$8 - 3 = 5$$

4. REŠI ŠE NALOGE V DZ 3, 4, 5

**SREDA, 8.4.2020**

SPO

**VIDIM, SLIŠIM.....**

**VIDIM, SLIŠIM ...**

POVEJ, KAJ VSE BODO OTROCI NA FOTOGRAFIJE:



POVEŽI, KAJ LAHKO VIDIS, SLIŠIS, VONJAS, OKUSIS ALI OTIPAS.



1. OGLEJ SI FOTOGRAFIJO IN POVEJ, KAJ BODO OTROCI VIDELI, SLIŠALI....

2. USTREZNO POVEŽI

3. OB POMOČI STARŠEV REŠI ŠE TO STRAN

**PRELJUČEM SADRJE**

SLEDI NAVODILOM IN ZA VSAK POSKUS SPROTI VNESI UGOTOVITVE V SPODNIJO TABELO.

	JE ENAK ✓	NI ENAK X
1.		
2.		
3.	HRAPAV	GLADEK
4.	MI JE VŠEČ	MI NI VŠEČ
5.	MI JE VŠEČ	MI NI VŠEČ



navarhni čarje? in ti si bil na srečo v vsej!

MAT

## TRIJE SEŠTEVANCI

**TRIJE SEŠTEVANCI**

1. SESTAVI RAČUN IN SEŠTEJ

2. DOPOLNI

1. POIŠČI SI TO STRAN V DZ

2. IZRAČUNAJ RAČUNE S TREMI ŠTEVILI TAKO, DA NAJPREJ SEŠTEJEŠ PRVI DVE ŠTEVILI IN NATI DODAŠ ŠE TRETJE ŠTEVILO.

3. PREŠTEJ ŽIVALI IN ZAPIŠI RAČUNE

4. IZRAČUNAJ.

SLJ

## BEREM IN PIŠEM

**BEREM IN PIŠEM**

C	SLIKANICA
CA	SLIKANIC
CAR	SLIKANI
ČARO	SLIKAN
ČAROV	SLIKA
ČAROVNI	SLIK
ČAROVNIC	SLI
ČAROVNICA	SL
	S

<b>ŽIVALI</b>	<b>RASTLINE</b>	<b>PREDMETE</b>
SLON	MAK	KOZAREC
SONCE	METULJ	KROKODIL
SINICA	MAČICA	KROŽNIK
SLIKA	MA'MA	KOKOŠ
SOVA	MACESEN	KRONA
SNEŽINKA	MAKARONI	KAVC
SREČA	MOTOVILEC	KAKTUS

DEŽEVEN DAN  
VČERA JE ... ANJA JE OBLUKA ... IN VZELA ...  
ODPRAVILA SE JE K ... PRED POSTO JE SREČALA ...  
... PIKAJA, PRI JE TERBA ZA ANJO ...  
... JE BL PRED ... OBLIČEN JE BL V ... OBLUTE JE ...  
... ANJA IN IGOR STA SKAKALA PO ...  
POSUALD JE ... ANJA IN IGOR STA ZAGLEDAVALA ...

BERI VPIŠOVALNA OBRNJA ŽODROK

KOLIKO OTROK JE OPIŠENIH V BESEDILU?  2  3  4

KOLIKO ŽIVALI JE OPIŠENIH V BESEDILU?  3  1  2

KAKŠNE BARVE ŠKORNJEV JE OBLUKA ANJA?

KOGA JE ANJA SREČALA?

V KAJ JE BL OBLIČEN IGOR?

1. STARŠI NAJ TI NAREKUJEJO ČRKE, KI SMO JIH SPOZNALI, TI PA JIH PIŠI V ZVEZEK

2. ZAPIŠI PO NAREKU KRATKE BESEDE: PIPA, VAZA, NOČ, MUCA, SONCE, ŠOLA

3. BERI IN REŠI NALOGE V DZ

ŠPO

## IGRE Z ŽOGO

Če bo vreme lepo se primerno obleci in lahko greš ven. Priporočam hojo in tek okrog hiše in preskakovanje žoge na tleh. Lahko zadevaš nastavljen predmet z žogo, zadevaš z žogo v nastavljeno vedro z razdalje tvojih pet korakov, lahko odbijaš žogo od tal, mečeš ob zid in v zrak in loviš.

Z družinskimi člani si podajajte žogo.



Izmisli si še svojo igro z žogo.  
Skratka gibaj se čim več!

## MOJE TELO

